

Mon fichier
de numération n°3

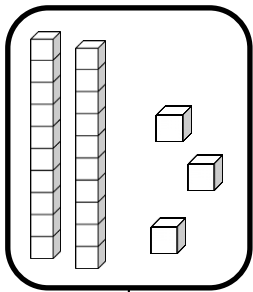
Les nombres de 0 à 30

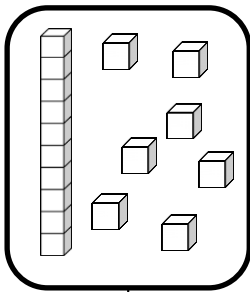


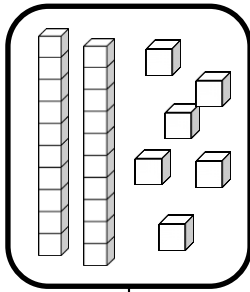
Nombres et quantités : de 0 à 30

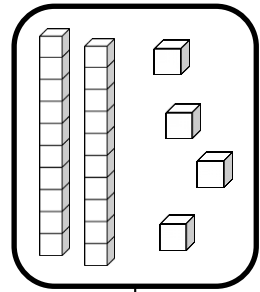


1 Complète avec le bon nombre :










2 Complète la bande numérique:


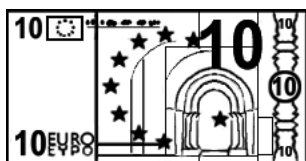
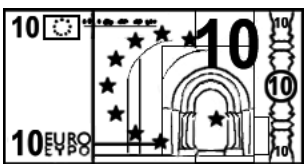


Nombres et quantités : de 0 à 30

1 Complète le tableau des nombres

0	1	2		4	5	6	7		9
10		12	13	14	15	16	17	18	
	21	22	23	24			27	28	29

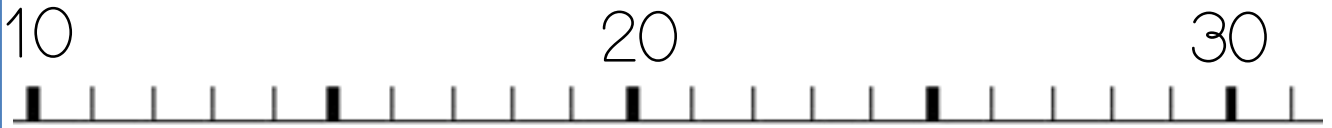
2 Trouve combien Arthur a d'argent dans sa tirelire :



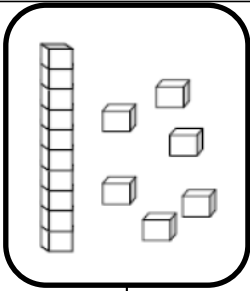
Nombres et quantités : de 0 à 30




1 Ecris les nombres sur la droite graduée :




2 Dessine le nombre en barres




16



22



24

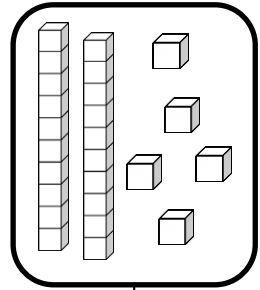
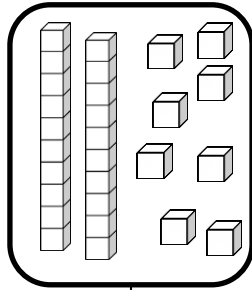
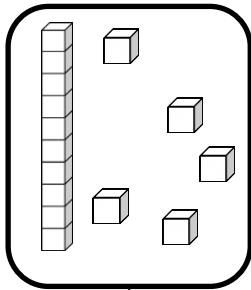
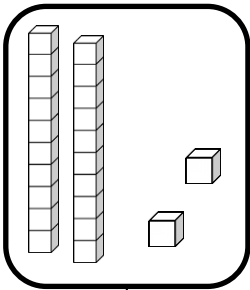


23


Nombres et quantités : de 0 à 30



1 Complète avec le bon nombre :



2 Complète la bande numérique:



Nombres et quantités: de 0 à 30




1 Aide-toi des étiquettes pour écrire les nombres

23	
17	
24	


- trois
- quatre
- sept
- dix
- vingt


2 Complète





Nombres et quantités: de 0 à 30

1 Compte en faisant des paquets de 10









Nombres et quantités: de 0 à 30



1 Aide-toi des étiquettes pour écrire les nombres

28	
19	
26	

- six
- huit
- neuf
- dix
- vingt

2 Ecris les nombres dans l'ordre décroissant, du plus grand au plus petit:

28 - 14 - 6

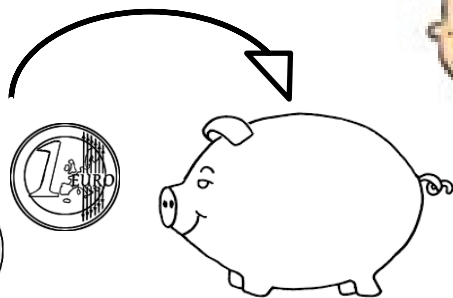
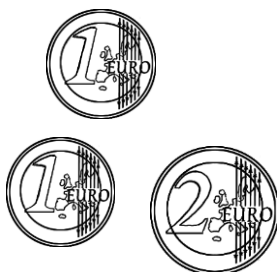
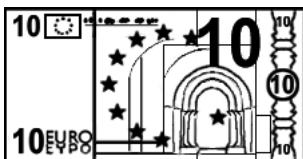
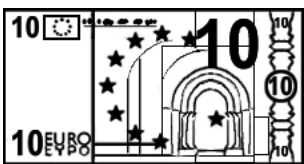
27 - 16 - 24

Nombres et quantités : de 0 à 30

1 Complète le tableau des nombres


0	1		3	4	5	6	7	8	
	11			14	15	16	17	18	19
20	21	22			25	26	27		29


2 Trouve combien Arthur a d'argent dans sa tirelire :



Nombres et quantités: de 0 à 30

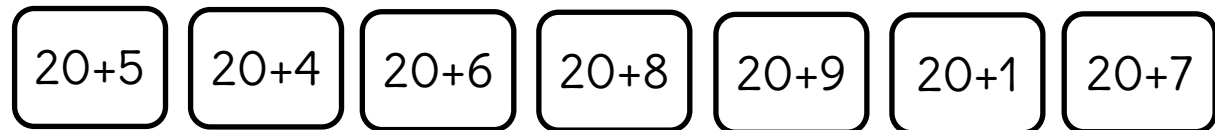
1 Fais avancer la grenouille. Colorie le chemin de son parcours et entoure sa case d'arrivée.




0	1	2	3	4	5	6	7	8	9
10	11		13	14	15	16	17	18	19
20	21	22	23	24	25	26	27	28	29

Nombres et quantités: de 0 à 30

1 Relie


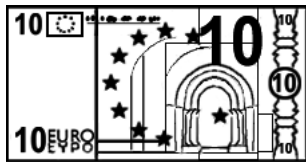



2 Complète

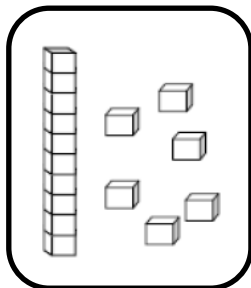


Nombres et quantités: de 0 à 30


1 Trouve combien Arthur a d'argent dans sa tirelire :




2 Dessine le nombre en barres




16



22



24



23

Nombres et quantités : de 0 à 30



1 Colorie de la même couleur ce qui est identique:

23

$20+7$

vingt-trois

vingt-sept

$20+5$

25

29

$20+3$

vingt-cinq

21

$20+9$

27

$20+1$

vingt-neuf

vingt-et-un

Nombres et quantités: de 0 à 30



1 Ecris les nombres dans l'ordre décroissant, du plus grand au plus petit:

15 - 22 - 20

27 - 17 - 24

Three empty rounded rectangular boxes for writing the numbers 15, 22, and 20 in descending order.

Three empty rounded rectangular boxes for writing the numbers 27, 17, and 24 in descending order.

2 Trouve le nombre qui vient avant et celui qui vient après

<input type="text"/>	29	<input type="text"/>
<input type="text"/>	22	<input type="text"/>
<input type="text"/>	16	<input type="text"/>

<input type="text"/>	25	<input type="text"/>
<input type="text"/>	14	<input type="text"/>
<input type="text"/>	27	<input type="text"/>

Nombres et quantités : de 0 à 30

1 Fais avancer la grenouille. Colorie le chemin de son parcours et entoure sa case d'arrivée.



Five circles containing the numbers: +1, +10, +1, +1, +1.

0	1		3	4	5	6	7	8	9
10	11	12	13	14	15	16	17	18	19
20	21	22	23	24	25	26	27	28	29

Nombres et quantités : de 0 à 30



1 Colorie de la même couleur ce qui est identique:

24

$20+8$

vingt-quatre

vingt-huit

vingt-deux

$20+4$

26

29

vingt-six

22

$20+9$

28

$20+2$





$20+6$

vingt-neuf

Nombres et quantités: de 0 à 30



1 Compte en faisant des paquets de 10



Nombres et quantités : de 0 à 30

3



15

1 Complète avec $<$, $>$ ou $=$:

22 18

21 12

16 23

19 20

27 25

19 21

2 Ecris les nombres dans l'ordre croissant, du plus petit au plus grand:

25 - 21 - 15

13 - 3 - 23

□ □ □

□ □ □

Nombres et quantités: de 0 à 30



1 Trouve le nombre qui vient avant et celui qui vient après

□ — 28 — □

□ — 24 — □

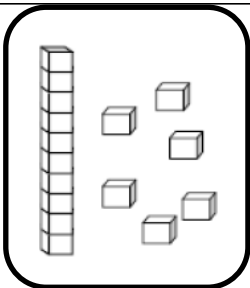
□ — 21 — □

□ — 13 — □

□ — 15 — □

□ — 26 — □

2 Dessine le nombre en barres



□

□

□

16

25

27

28

Nombres et quantités : de 0 à 30



1 Relie les nombres à leur place sur la droite graduée

9

12


16

27

23



2 Complète



Nombres et quantités : de 0 à 30

3  15

1 Complète avec $<$, $>$ ou $=$:

29 $20 + 8$

$20 + 3$ 29

26 $20 + 3$

$20 + 4$ 25

27 $20 + 5$

$20 + 7$ 26

2 Ecris les nombres dans l'ordre croissant, du plus petit au plus grand:

26 - 17 - 12 - 20 - 7